



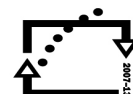
evropský
sociální
fond v ČR



EVROPSKÁ UNIE



MINISTERSTVO ŠKOLSTVÍ,
MLÁDEŽE A TĚLOVÝCHOVY



OP Vzdělávání
pro konkurenceschopnost

INVESTICE DO ROZVOJE VZDĚLÁVÁNÍ

Šablona FG č. I, sada č. 2	
Vzdělávací oblast	Člověk a příroda
Vzdělávací obor	Zeměpis
Tematický okruh	Evropa
Téma	Evropská měna - euro
Ročník	6.
Anotace	Tento pracovní list je určen k procvičení znalostí o společné evropské měně a měnách evropských států. Pracovní list je tvořen formou testu.
Očekávaný výstup a klíčové kompetence	Žák porovnává a přiměřeně hodnotí hospodářské poměry, zvláštnosti a podobnosti vybraných (modelových) států Evropy.
Klíčová slova	Evropská měna, euro, kurs eura.
Druh učebního materiálu	Pracovní list
Autor/vytvořeno	Mgr. Markéta Vernerová/červen 2013

Předmět: Zeměpis

Třída: 6.

Téma: Evropská měna - euro

Učivo: Evropská měna - euro

Počet vyučovacích hodin: 1

Pomůcky: pracovní listy

Práce s pracovními listy:

Pracovní listy formou testu slouží k ověření získaných poznatků o evropské měně, kurzu měny.

Zdroj: <http://www.euromince.eu>

Výsledky:

1. C
2. A
3. B
4. B
5. B
6. C
7. A
8. Slovensko

Vyber (zakroužkuj) správnou odpověď:

1. Euro je...

- a) měna USA
- b) měna Japonska
- c) měna některých evropských zemí (eurozóny).

2. Znakem eura je...

- a) €
- b) £
- c) β.

3. 1 € sečlení na

- a) 100 haléřů
- b) 100 centů (eurocentů)
- c) 10 centů (eurocentů).

4. Nejvyšší euromince má hodnotu

- a) 1 €
- b) 2 €
- c) 5 €.



5. Nejnižší eurobankovka má hodnotu

- a) 10 €
- b) 5 €
- c) 20 €.

6. Mezi evropské země, kde se neplatí eurem patří

- a) Německo
- b) Rakousko
- c) Velká Británie.

7. Vyber z tabulky zemi, která nejnověji zavedla euro:

Země	Vlajka	Původní měna	Zkratka pův. měny	Euro od roku
Rakousko		rakouský šiling	ATS	2002
Belgie		belgický frank	BEF	2002
Kypr		kyperská libra	CYP	2008
Finsko		finská marka	FIM	2002
Německo		německá marka	DEM	2002
Řecko		řecká drachma	GRD	2002
Irsko		irská libra	IEP	2002
Itálie		italská lira	ITL	2002
Lucembursko		lucemburský frank	LUF	2002
Malta		maltská lira	MTL	2008
Nizozemí		nizozemský gulden	NLG	2002
Portugalsko		portugalské escudo	PTE	2002
Slovensko		slovenská koruna	SKK	2009
Slovinsko		slovinský tolar	SIT	2007
Španělsko		španělská peseta	ESP	2002

8. Přibližná hodnota 1€ je

- a) 25 Kč
- b) 50 Kč
- c) 100 Kč.

VY_62_INOVACE_FGMV_I-2_5