



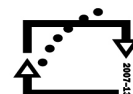
evropský
sociální
fond v ČR



EVROPSKÁ UNIE



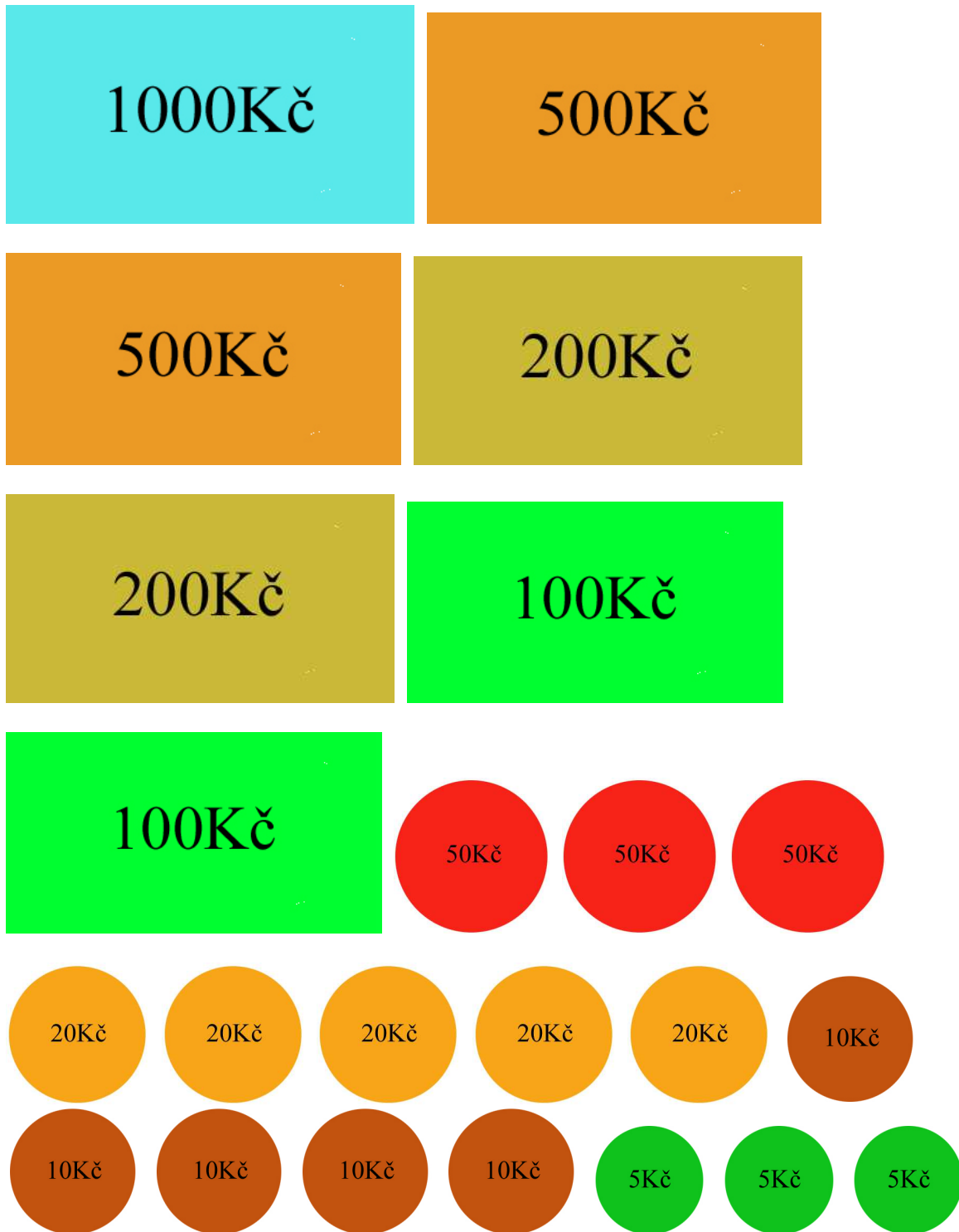
MINISTERSTVO ŠKOLSTVÍ,
MLÁDEŽE A TĚLOVÝCHOVY

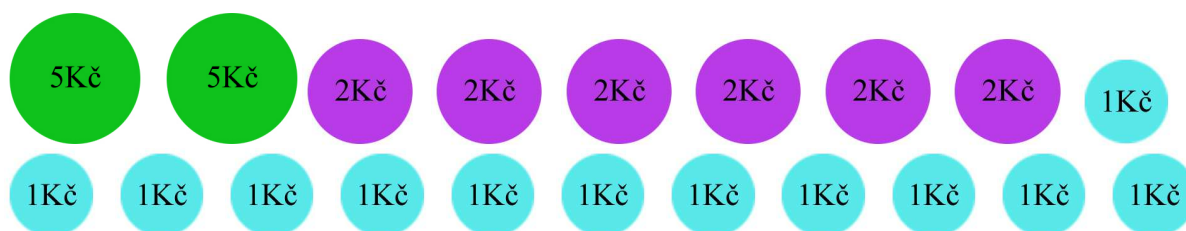


OP Vzdělávání
pro konkurenceschopnost

INVESTICE DO ROZVOJE VZDĚLÁVÁNÍ

Šablona FG č. I, sada č. 2	
Vzdělávací oblast	Matematika a její aplikace
Vzdělávací obor	Matematika a její aplikace
Tematický okruh	Číslo a proměnná
Téma	Kupecké počty
Ročník	4.
Anotace	Praktická úloha zaměřená na jednoduché nákupy. Pracovní list je možné libovolně rozšířit o další úlohy. Práce je zaměřena především na skupinovou práci.
Očekávaný výstup a klíčové kompetence	Žák je schopen pracovat s jednoduchými „kupeckými“ počty.
Klíčová slova	Kupecké počty, obchod
Druh učebního materiálu	Pracovní list
Autor/vytvořeno	Bc. Kristian Ostřížek / únor 2013





Peníze podle a vystřihni.

Jakou celkovou částku máš k dispozici?

Máš za úkol nakoupit následující potraviny. Zjisti, kolik mincí a bankovek bys potřeboval/a **nejméně** k přesnému zaplacení nákupu. Zjisti, jako bankovku či minci bys potřeboval/a k zaplacení celého nákupu.

Chléb.....22Kč
 10 housek.....3Kč / 1 houska
 1 máslo.....35Kč
 1 mléko.....18Kč
 20dkg sýra.....13Kč / 10dkg
 3kg brambor.....14Kč / 1kg
 1kg cibule.....17Kč

Otevřete si ve třídě jeden nebo dva obchody a vyzkoušejte si nakupování. Předem si vytvoř seznam věcí, které potřebuješ nakoupit. Při nakupování se nenech ošdit! ☺

ŘEŠENÍ:

Jakou celkovou částku máš k dispozici? **2949Kč**

Máš za úkol nakoupit následující potraviny. Zjisti, kolik mincí a bankovek bys potřeboval/a **nejméně** k přesnému zaplacení nákupu. Zjisti, jako bankovku či minci bys potřeboval/a k zaplacení celého nákupu.

Chléb.....22Kč
10 housek.....3Kč / 1 houska
1 máslo.....35Kč
1 mléko.....18Kč
20dkg sýra.....13Kč / 10dkg
3kg brambor.....14Kč / 1kg
1kg cibule.....17Kč

Celkový nákup: 190Kč. 1 stokoruna, 1 padesátikoruna, 2 dvacetikoruny. 1 dvousetkorunu.